


**Числа
от 1 до 10.
Нумерация**

Математика. 1 класс
Тест 2



Вопрос № 1

Сколько букв в слове «математика» ?

A	B	C	D
6	10	8	9

Вопрос № 2

Какое число идёт при счёте за числом 7?

A	B	C	D
6	5	8	9

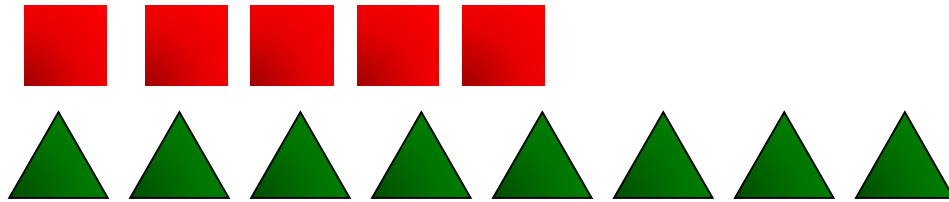
Вопрос № 3

Какое число самое маленькое?

A	B	C	D
6	5	8	9

Вопрос № 4

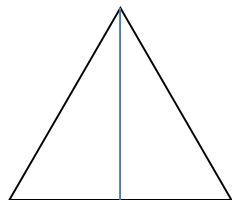
Сколько ещё нужно положить квадратов,
чтобы их стало столько же, сколько
треугольников?



A	B	C	D
1	2	3	4

Вопрос № 5


Сколько треугольников вы видите на рисунке?



1



2




3



4

Вопрос № 6

Карточка с каким числом перевернута?



A	B	C	D
1	2	3	4

Вопрос № 7

В каком неравенстве нужно поставить
знак «>» ?

A

$5 \square 4$

B

$7 \square 5$

C









$3 \square 9$

D

$8 \square 10$

Вопрос № 8

В какой ломаной 4 звена?

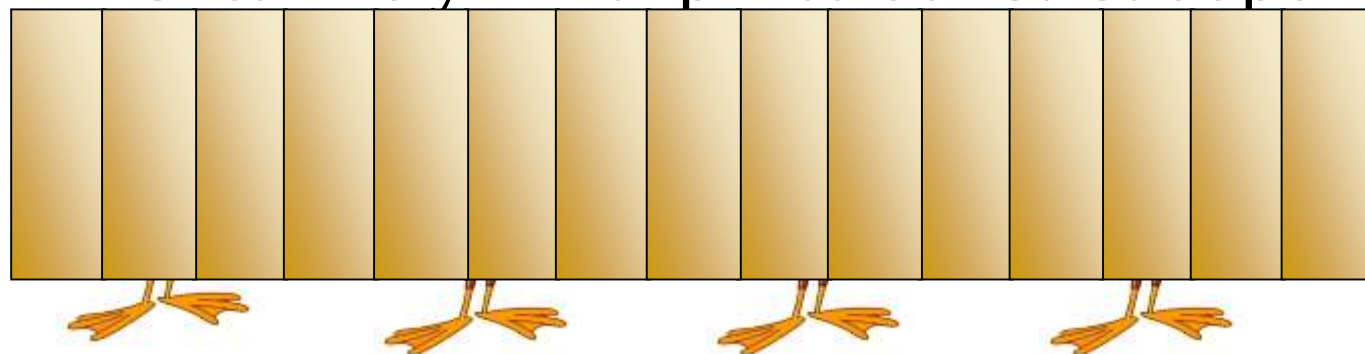
Вопрос № 9

Таня разрезала яблоко пополам, а потом половинку ещё пополам. Сколько частей у неё получилось?

A	B	C	D
2	5	3	4

Вопрос № 10

За забором спрятались утята. Видны 8 лапок.
Сколько утят спряталось за забором?



A	B	C	D
2	5	3	4

Литература:

Фефилова Е.П., Мокрушина О.А., Дмитриева О. И.
Поурочные разработки по математике :1 класс. –
4-еизд., испр. И доп.-М.: ВАКО, 2009, -400с.- (В
помощь школьному учителю)

Источники

http://ru.123rf.com/photo_9326599_cartoon-duck-presenting-with-his-wing.html-утка

<http://puzkarapuz.org/81464-ramka-veselaya-matematika.html>-рамка